


CVIČNÝ PŘIJÍMACÍ TEST Z HUDEBNÍ TEORIE

Pražská konzervatoř

EŠENÍ

1. Zapište a pojmenujte předebrané stupnice.

E dur



a moll harmonická





2. Doplňte intervalový tón a pojmenujte interval.

↑ m3

v6

m6

č5




č5

v3

č4

v2

3. Zapište a pojmenujte předebrané akordy. (Zadán je basový tón každého akordu.)



dur

dur

moll

moll


dur

moll

4. Zapište rytmus předebrané melodie.



5. Zapište předebrané tóny z tóniny E dur. V každém taktu bude jeden tón.



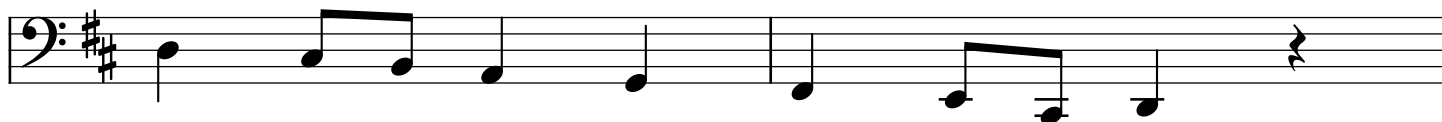
6. a. Zapište vzestupně melodickou mollovou stupnicí paralelní se stupnicí A dur.

b. Zapište vzestupně stupnici enharmonickou se stupnicí Cis dur.

c. Zapište v základním tvaru dominantní septakord z tóniny G dur.



7. Transponujte zadanou melodii do tóniny D dur a začněte tónem malé d.



8. Pojmenujte následující intervaly:

č5



v7



v3



m7



v2

